

# ONLINE HODINA ZEMĚPIS 7.ROČNÍK

## ÚTERÝ 24.11.20

1)Hospodářství Ameriky.

2)Opakování Kanada.

3)USA – vznik, obyvatelstvo, hospodářství.

Pracujeme s Pracovním sešitem strana 25,26


Prezentace USA – vznik, obyvatelstvo, hospodářství – vypracuj výpisek na str. 27.

1)





1. Severní i Jižní Amerika vyvážejí obrovské množství nejen nerostných surovin, ale i zemědělských plodin a průmyslových výrobků. S pomocí atlasu spoj správně stát a jeho hlavní vývozní artikl:

A. Kuba	ropa, dřevo
B. Chile	měď
C. Kanada	ropa
D. Venezuela	železo, papír
E. USA	cukr, tabák
F. Argentina	zlato, olej
G. Brazílie	potraviny






2. Podle obrázků pozněj, o jaký druh průmyslu se jedná:



3. Pokus se ke známým americkým firmám přiřadit logo a napsat produkt, který poskytují:

P I X A R				

4. Fotografie vystihují průmysl a hospodářství Ameriky. Popiš fotografie a urči, zda hospodářství pochází ze Severní nebo Jižní Ameriky:

				
				trus G

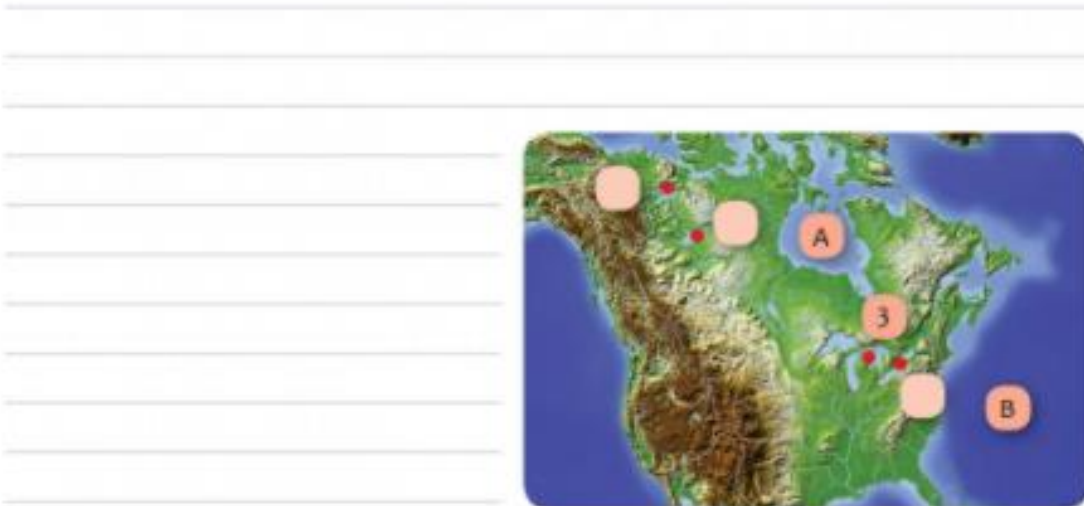
2)

## II. REGIONY AMERIKY

### Severní Amerika – Kanada



Rozloha	Počet obyvatel	Hlavní město	Měna	Mezinár. kód



1. Na území Kanady se nachází mnoho velkých jezer. Vyznač na mapě některá z nich. Pojmenuj záliv, oceán a vodopády:

Velké Medvědí jezero

A

Velké Otročí jezero

B

3

Niagarské vodopády

2. Víš, které jsou dva nejpoužívanější oficiální jazyky Kanady?

Jakým jazykem se mluví v provincii Quebec?

Největší město této provincie se považuje za nejhokejovější město světa. Znáš jeho název?

3. Většina obyvatel Kanady žije:

A. na severních nížinách

B. na jihu u hranic s USA

C. na poloostrově Labrador

4. Kanadským národním stromem je:

A. lípa

B. javor

C. bříza

D. smrk

5. Jaký je kanadský národní sport?



A.



B.



C.