

Celá čísla znázornění celých čísel

Doplň správnou jednotku:

- ▶ $86,4 \text{ q} = 8,64$
- ▶ $1567 \text{ cm}^2 = 0,1567$
- ▶ $3,769 \text{ kg} = 3769$
- ▶ $0,38 \text{ m}^2 = 38$
- ▶ $0,524 \text{ q} = 52,4$
- ▶ $2,7 \text{ dm} = 270$
- ▶ $2,2 \text{ a} = 220$
- ▶ $0,071 \text{ km} = 7100$
- ▶ $7,23 \text{ ha} = 723$

Vypočítej, děl beze zbytku

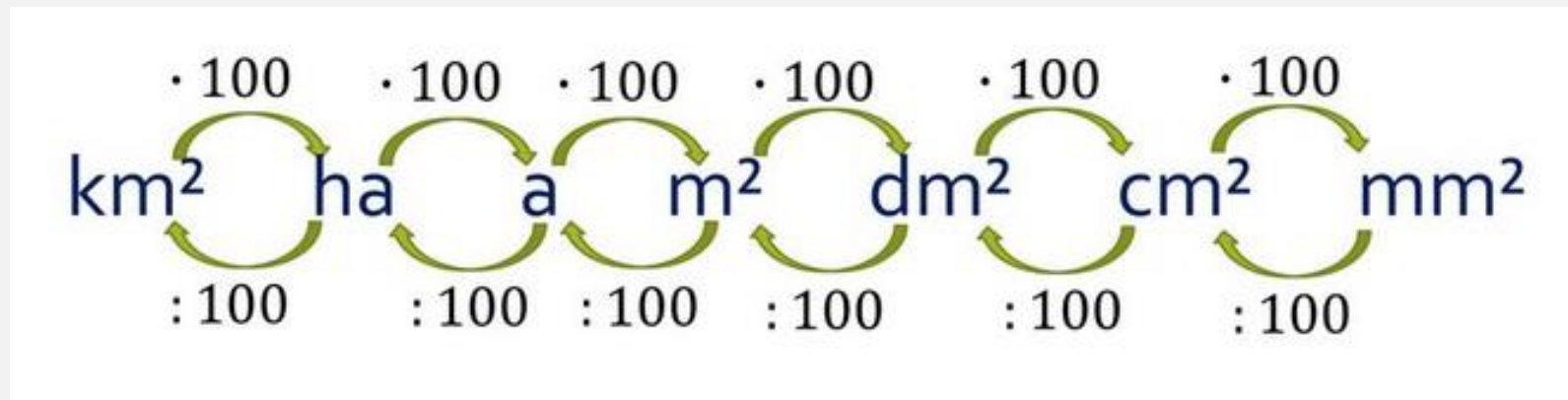
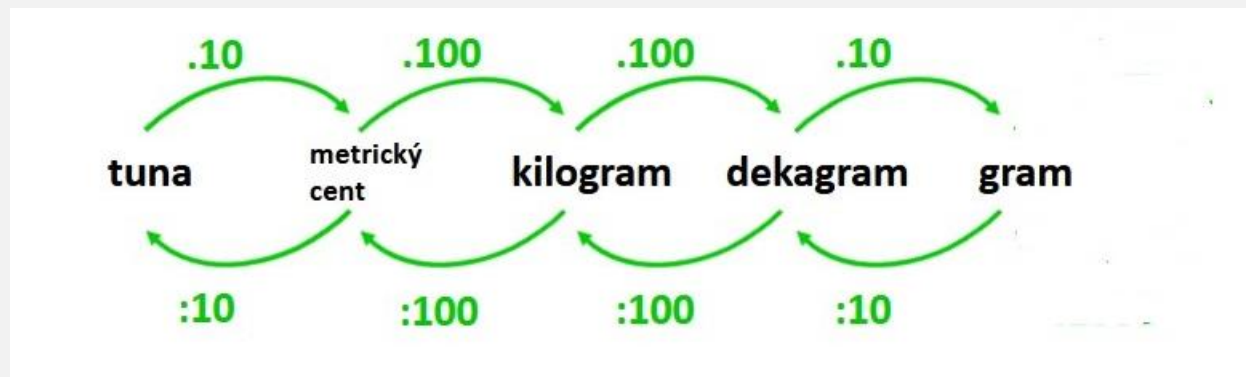
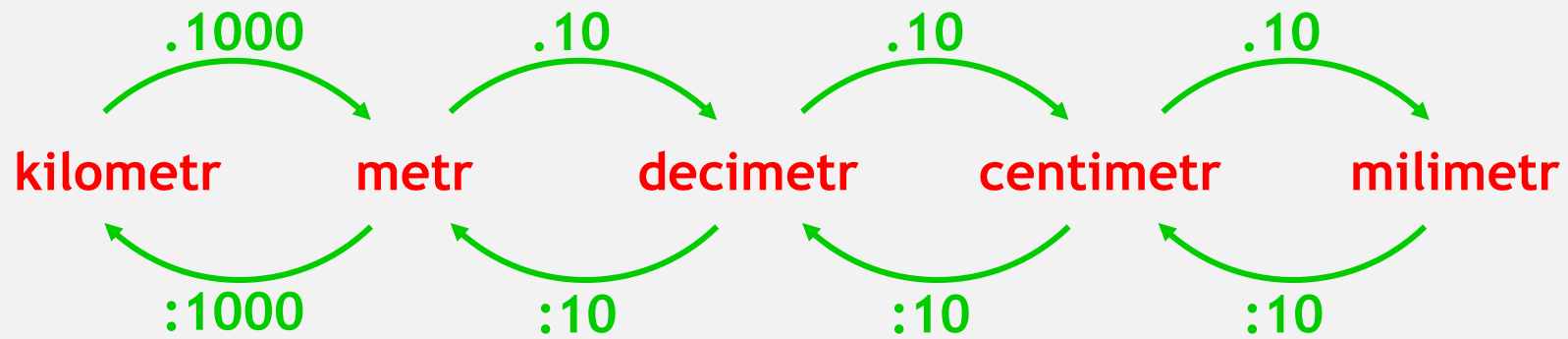
- ▶ $0,3 \cdot 0,5 = 0,15$
- ▶ $1,8 \cdot 0,5 = 0,90$
- ▶ $\frac{2,4 : 0,6 / \cdot 10}{24 : 6 = 4} \quad 4 \cdot 0,6 = 2,4$
- ▶ $\frac{15 : 0,5 / \cdot 10}{150 : 5 = 30} \quad 30 \cdot 0,5 = 15$
- ▶ $\frac{3,8 : 0,4 / \cdot 10}{38 : 4 = 9,5} \quad 9,5 \cdot 0,4 = 3,80$
20
0
- ▶ $\frac{2,6 : 0,8 / \cdot 10}{26 : 8 = 3,25} \quad 3,25 \cdot 0,8 = 2,600$
20
40
0

Doplň správnou jednotku:

- ▶ $86,4 \text{ q} = 8,64 \text{ t}$
- ▶ $1567 \text{ cm}^2 = 0,1567 \text{ dm}^2$
- ▶ $3,769 \text{ kg} = 3769 \text{ g}$
- ▶ $0,38 \text{ m}^2 = 38 \text{ dm}^2$
- ▶ $0,524 \text{ q} = 52,4 \text{ kg}$
- ▶ $2,7 \text{ dm} = 270 \text{ mm}$
- ▶ $2,2 \text{ a} = 220 \text{ m}^2$
- ▶ $0,071 \text{ km} = 7100 \text{ cm}$
- ▶ $7,23 \text{ ha} = 723 \text{ a}$

Vypočítej, děl beze zbytku

- ▶ $0,3 \cdot 0,5 =$
- ▶ $1,8 \cdot 0,5 =$
- ▶ $2,4 : 0,6 =$
- ▶ $15 : 0,5 =$
- ▶ $3,8 : 0,4 =$
- ▶ $2,6 : 0,8 =$



Opakování - co vím o celých číslech

Poznámkový blok - kreslení

Zakreslete zadaná čísla na vloženou číselnou osu.