

AFRIKA

DĚJINY

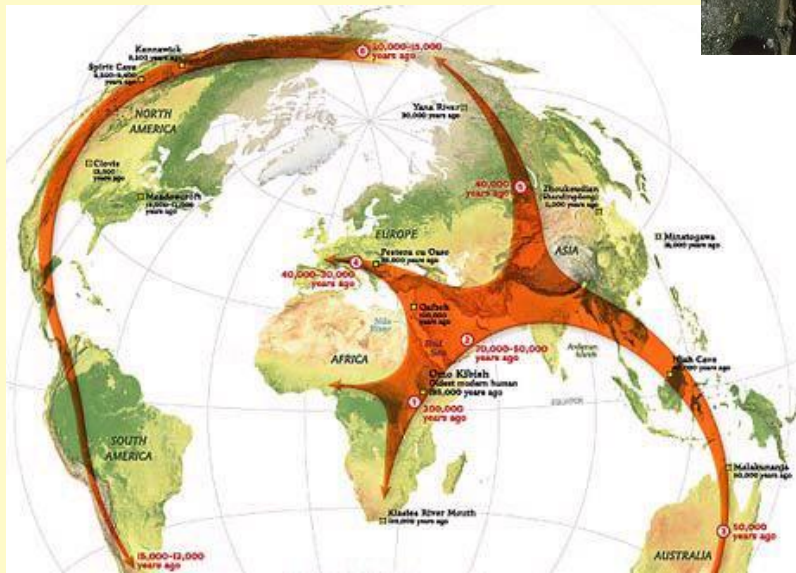
KOLONIZACE

AFRIKA „KOLÉBKA LIDSTVA“

ve východní Africe byly
nalezeny nejstarší
kosterní pozůstatky
předchůdců člověka



Olduvajská rokle - Tanzánie



migrace lidstva z Afriky



Simienské hory - Etiopie

NĚCO Z HISTORIE

- 3. tisíciletí př.n.l. – **egyptská říše**
- 1. tisíciletí př.n.l. – **příchod Féničanů** – založili město a přístav Kartágo (dnešní Tunis)
- 7. století n.l. – příchod **Arabů** – osídlili Sv- původní obyvatelstvo vytlačeno do vnitrozemí
- v Africe vzniklo mnoho **domorodých říší** - nejvýznamnější z nich byla Habeš (dnes Etiopie)
- 15. století – zájem Evropanů – **kolonizace Afriky** (zdroj nerostných surovin, dřeva, zemědělských produktů, otroků odvážených do Ameriky)

CESTOVATELÉ

- Až do roku 1850 Evropané prakticky vůbec neznali vnitrozemí Afriky
- 1850-1870 **průzkum Afriky cestovateli**
 - **David Livingstone** (Skot), lékař a misionář, objevil Viktoriiny vodopády a jezero Malawi
 - **Henry Morton Stanley** (Brit) prozkoumal hlavně povodí řeky Kongo - nejvíc se proslavil tím, že našel v Africe ztraceného Livingstona - o Livingstonovi už nebyly 4 roky žádné zprávy)
 - Čech **Emil Holub** - šel ve stopách Livingstona. Nakreslil první mapu Viktoriiných vodopádů.



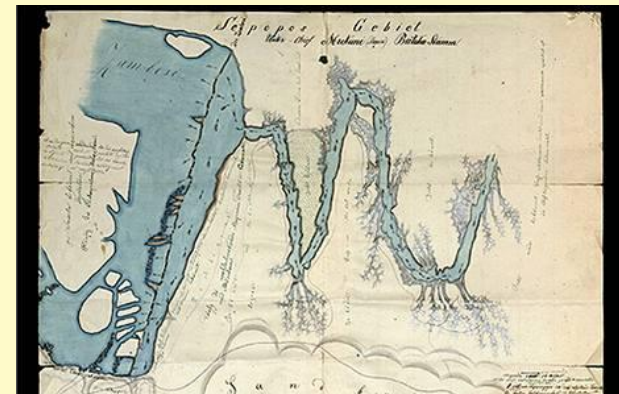
MUDr. David Livingstone



**Henry Morton Stanley s
africkým chlapcem Kalulu**



Dr. Emil Holub



**Mapa Viktoriiných vodopádů
z r. 1875**

20. STOLETÍ

- ještě do poloviny 20. století byly téměř všechny africké země pod koloniální nadvládou
- boj za nezávislost zesílil po 2. světové válce
- nejvíce zemí se osamostatnilo počátkem 60. let
- **rok 1960** bývá označován jako „**Rok Afriky**“ – nezávislost získalo 17 států
- ve většině afrických států následovaly po osamostatnění velké problémy - občanské války, hlad, nepokoje, pokles životní úrovně

Pracuj s atlasem

str. 101 a 102

Úkol 1:

Do 2. světové války existovaly v Africe jen
4 nezávislé státy.

Byly to :,,
.....,

Úkol 2:

Které evropské země měly svoje kolonie v Africe?

Byly to:,,
.....,,
.....,

Úkol 3:

Napiš příklady států, které byly pod koloniální nadvládou:

a) Francie

.....,,
.....,,
.....,,
.....,

b) Velké Británie

.....,,
.....,,
.....,

c) Portugalska:

.....,,
.....,

Úkol 4:

Které státy získaly nezávislost až po roce 1965?

Napiš dřívější název a současný název státu.

např: -,
..... -,
..... -,
..... -,

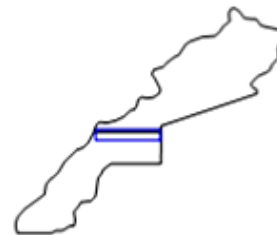
Úkol 5:

9.července 2011 přibyl na mapě Afriky nový stát.

Jmenuje se a vyhlásil
nezávislost na

Úkol 6:

K obrysům států uveď jeho název a hlavní město.



Zdroje:

- <http://img.fler.cz/products/1/1/113119/1735788/1306493419.2943-a398fdf7ad44182.jpg>
- <http://humans7.beyondgenes.com/images59/asia2.JPG>
- http://www.photoearth.cz/html/fotografie/56_656.jpg
- <http://www.emag.cz/afrika-kolebka-lidstva/>
- http://i.lidovky.cz/06/042/lngal/SVO125583_kostr.jpg
- http://libweb5.princeton.edu/visual_materials/maps/websites/africa/stanley/stanley-portrait2-thumb.jpg
- <http://www.themoralliberal.com/wp-content/uploads/2009/11/dr-david-livingstone1.jpg>
- <http://www.akademon.cz/source/obr/n221204.jpg>
- http://i.idnes.cz/10/031/gal/318f19_holub_mapa2.jpg
- <http://www.kompas.estranky.cz/clanky/clanky---afrika/zemepisne-rekordy-afrika-stavby-obyvatelestvo.html>
- **ŠKOLNÍ ATLAS SVĚTA, Kartografie PRAHA,,a.s., 2007, 2.vydání, Kartografie PRAHA,a.s.,Ostrovní 30, 110 00 Praha1, ISBN 978-80-7011-925-9**